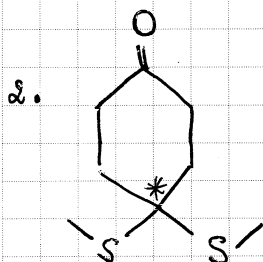
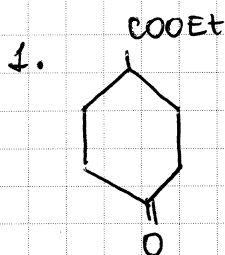


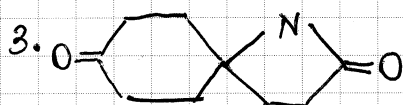


zadanie:

ksyntezyj podane zwiazki z dowolnych reagentow.



* - oznaczony atom wegla wprowadzi za pomoca



jako substrat uzyj CH_3NO_2

4. Objasnij jak zachodzi mechanizm podanej reakcji:

